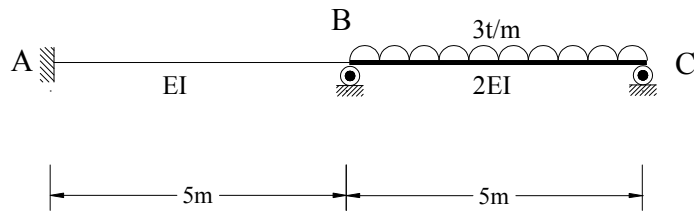
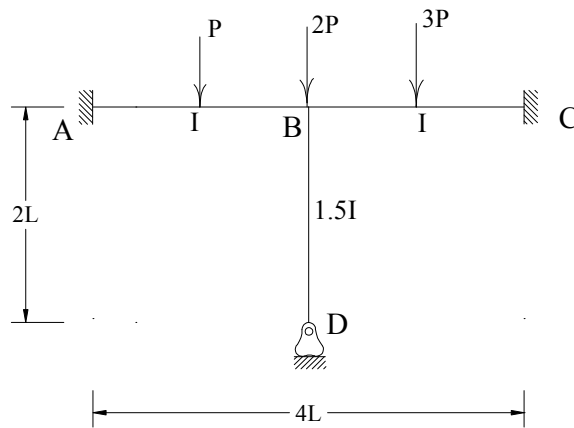


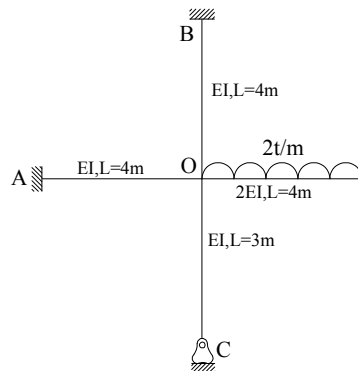
مطلوبست دیاگرام لنگر با استفاده از روش کراس (تکیه گاه و ۲ سانتیمتر نشست دارد):



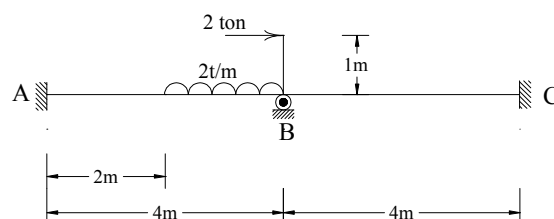
مطلوبست دیاگرام لنگر با استفاده از روش کراس و تعیین عکس العمل تکیه گاه D:



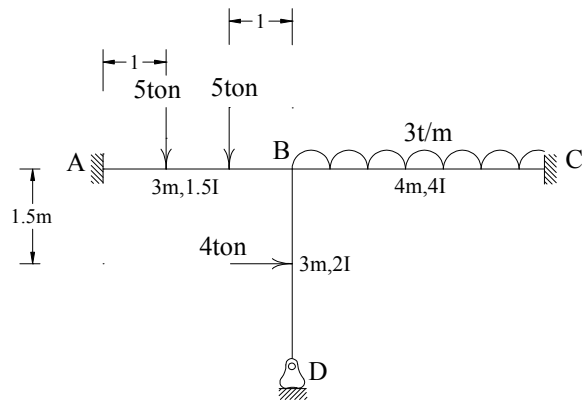
مطلوبست دیاگرام لنگر با استفاده از روش کراس:



مطلوبست دیاگرام لنگر با استفاده از روش کراس:



مطلوبست دیاگرام لنگر با استفاده از روش کراس:



مطلوبست دیاگرام لنگر با استفاده از روش کراس:

